

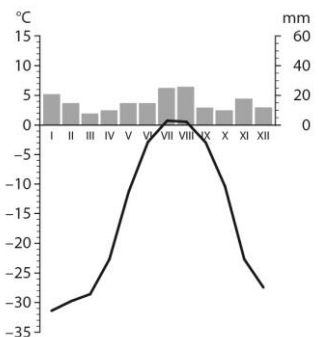
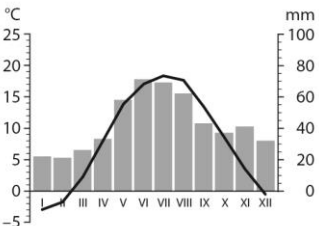
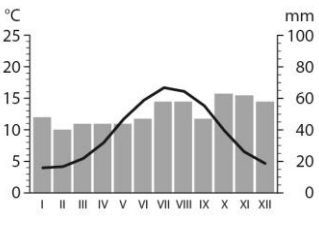
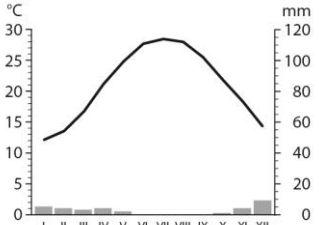
Strefy klimatyczne i strefy krajobrazowe


imię i nazwisko

klasa**data**

1. Uzupełnij tabelę dotyczącą stref klimatycznych oraz stref krajobrazowych na Ziemi. Wykorzystaj informacje z podręcznika (s. 108, 110 i 111) oraz mapy w atlasie geograficznym.

- Odszukaj na mapach w podręczniku lub atlasie miejscowości, których nazwy wymieniono w pierwszej kolumnie.
- Ustal na podstawie mapy zamieszczonej w podręczniku (s. 108), w których strefach klimatycznych znajdują się wymienione miejsca. Następnie wpisz do drugiej kolumny tabeli nazwy ustalonych stref klimatycznych.
- Wskaż na mapie w podręczniku (s. 110) położenie wymienionych w pierwszej kolumnie miejsc i ustal, w jakich strefach krajobrazowych one leżą. Następnie wpisz do trzeciej kolumny tabeli nazwy ustalonych stref krajobrazowych.
- Odszukaj na ilustracji w podręczniku (s. 111) ustalone w punkcie c strefy krajobrazowe i przyjrzyj się ich fotografiom. Następnie napisz w czwartej kolumnie, jak klimat wpływa na roślinność.

Klimatogram	Nazwa strefy klimatycznej	Nazwa strefy krajobrazowej	Wpływ klimatu na roślinność
<p>Przyłądek Czeluskin</p> 			
<p>Warszawa</p> 			
<p>Londyn</p> 			
<p>Kair</p> 			



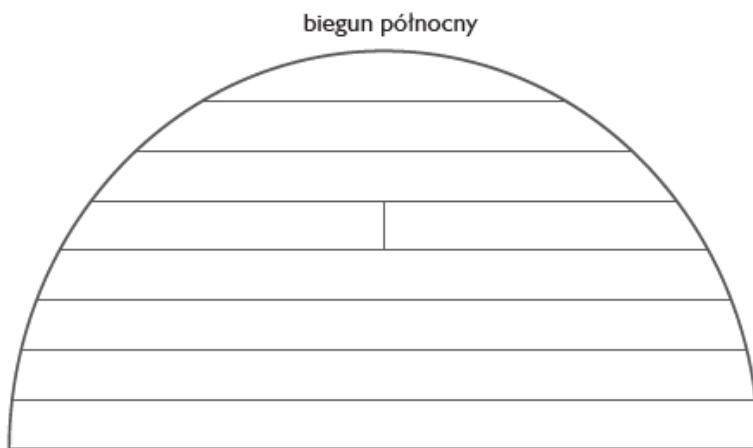
2. Wykonaj polecenia na podstawie ilustracji z podręcznika (s. 111).

a) Zamaluj na schemacie różnymi kolorami strefy krajobrazowe wymienione w tabeli w zadaniu 1.

Obok schematu wykonaj legendę.

b) Wpisz w odpowiednich strefach krajobrazowych na schemacie nazwy miejsc, które są wymienione w zadaniu 1.

c) Podpisz pozostałe strefy krajobrazowe.



Legenda